





いばらきっ子郷土検定 問題 (小学生用)

茨城県の問題に挑戦してみましよう。

○答えのらんに番号を書いてください。

がくねん 学年		なまえ 名前	
------------	--	-----------	--

ばんごう 番号	もん だい 問題	こた 答え
1	茨城県のマーク(県章)は、次のうちどれでしょう。 1  2  3  4 	
2	茨城県の花は、次のうちどれでしょう。 1 チューリップ 2 ばら 3 コスモス 4 さくら	
3	茨城県には、日本で2番目に大きい湖があります。それは、次のうちどれでしょう。 1 北浦(きたうら) 2 涸沼(ひぬま) 3 千波湖(せんばこ) 4 霞ヶ浦(かすみがうら)	
4	茨城県民の日(茨城県という県名がつけられた日)は、次のうちどれでしょう。 1 10月10日 2 11月3日 3 11月13日 4 11月23日	
5	日本一のサメの飼育種類数をほこる施設は、次のうちどれでしょう。 1 ミュージアムパーク茨城県自然博物館 2 茨城県植物園 3 アクアワールド茨城県大洗水族館 4 茨城県立歴史館	
6	茨城県の中で海からの高さが一番高い山は、次のうちどれでしょう。 1 筑波(つくば)山 2 八溝(やみぞ)山 3 加波(かば)山 4 高鈴(たかすず)山	
7	茨城県オリジナルの人権啓発キャラクターの名前は、次のうちどれでしょう。 1 ふれあちゃん 2 人KENまもるくん 3 ココロちゃん 4 茨ひより	
8	全国で一番のメロン産地である茨城県が、独自につくった品種の名前は、次のうちどれでしょう。 1 イバラキッス 2 イバマル 3 イバラッキー 4 イバラキング	
9	茨城県は海に面しています。何という海に面しているでしょう。 1 太平洋 2 大西洋 3 日本海 4 東シナ海	
10	茨城県の中にある市町村は全部でいくつでしょう。 1 37市町村 2 44市町村 3 47市町村 4 50市町村	

せいかい 正解した数	かず
---------------	----